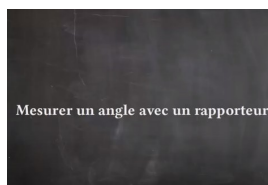





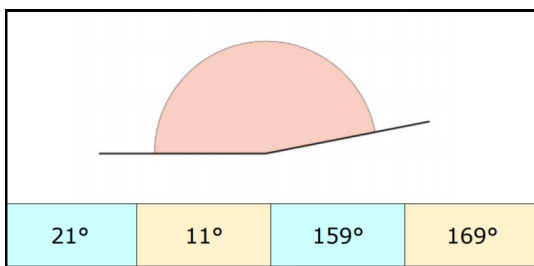
# 1

Relire la leçon ou/et regarder la vidéo



# 2

Recherche



Choisis un partenaire et jouez ensemble.

Utilisez un rapporteur

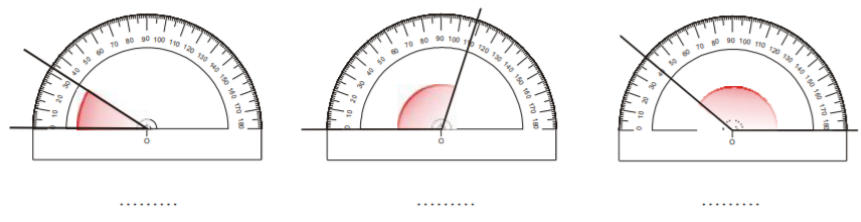


# 3

Entrainement

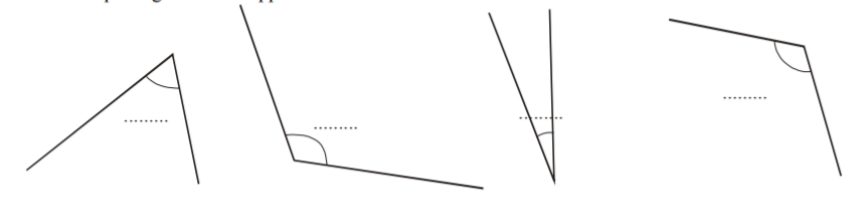
**Exercice n°1**

Dans chaque cas, écris sous les angles leur mesure en degré.



**Exercice n°2**

Mesure chaque angle avec le rapporteur.



Réalise ces 2 exercices



# Essai 1



4

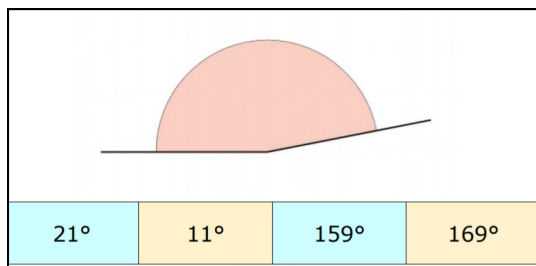
### Tutorat

- Correction de la fiche essai 1 avec un camarade



5

### Entrainement



Rejoue à ce jeu

Utilise un rapporteur

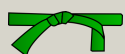
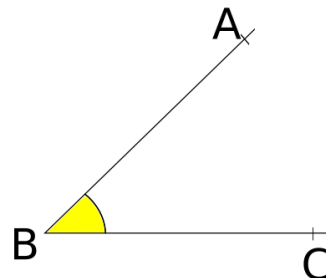
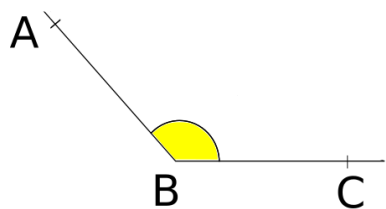


### Essai 2

6

### Remédiation

- Correction de la fiche essai 2 avec l'enseignant
- Relire la leçon
- Entrainement : Donne la mesure de ces angles



### Essai 3