



1

Relire la leçon ou/et regarder la vidéo

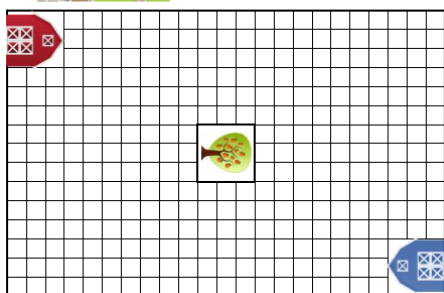


2

Manipulation



La guerre des champs

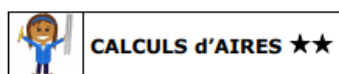


Cherche un partenaire et jouez au jeu « la guerre des champs »



3

Entrainement



1	2	3	4	5
6	7	8	9	10
11	12	13	14	15

Réalise les exercices
1, 2, 3 et 5 du fichier

Comment faire ?
L'aire est la mesure d'une surface dans une unité d'aire (par exemple le carré d'un quadrillage, le centimètre carré cm²).

Des surfaces différentes peuvent avoir la même aire.










Formules :

	Longueur du côté		longueur
AIRE = longueur du côté x longueur du côté		AIRE = Longueur x largeur = L x l	



Essai 1



4	<p style="text-align: center;"><u>Tutorat</u></p> <p>- Correction de la fiche essai 1 avec un camarade</p> 
5	<p style="text-align: center;"><u>Entrainement</u></p>   
	Essai 2
6	<p style="text-align: center;"><u>Remédiation</u></p> <ul style="list-style-type: none">- Correction de la fiche essai 2 avec l'enseignant- Relire la leçon- Entrainement : Réalise les exercices   
	Essai 3