



### 1

### Relire la leçon ou/et regarder la vidéo



Mathématiques – Géométrie

### Le programme de construction

⇒ *Le vocabulaire géométrique*



Mathématiques – Géométrie

### Le programme de construction

### 2

### Recherche



Place un point D à 8 cm de C.
Trace la droite (AB) en bleu.
Trace le polygone DABC.
Place trois points A, B, C.
Place le point I, milieu de [DC].

Trouve un partenaire et joue à ce jeu. Il s'agit de remettre en ordre les consignes de ce programme de construction pour obtenir la figure.

### 3

### Entraînement



**30**

Avec ton matériel de géométrie, suis le programme de construction :

- Le segment [AB] de longueur 8 cm est déjà tracé. Trace le segment [BC] de longueur 6 cm, perpendiculaire à [AB].
- Termine la construction du triangle rectangle ABC. Colorie-le en bleu.
- Place le point D milieu du côté [AC] puis trace l'arc de cercle AC. Colorie la portion du disque en orange.
- Place le point E milieu du côté [BC] puis trace l'arc de cercle BC. Colorie la portion de disque en rouge.
- Place le point F milieu du côté [AB] puis trace l'arc de cercle AB. Colorie la portion de disque en jaune.






Attention ! les arcs de cercle ne doivent pas se chevaucher.

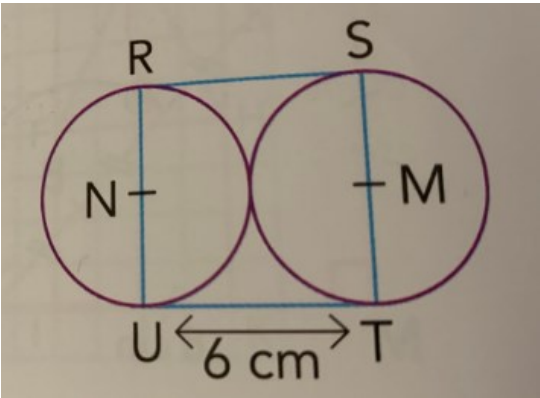

Réalise cette fiche.



## Essai 1



4	<p style="text-align: center;"><u>Tutorat</u></p> <p>- Correction de la fiche essai 1 avec un camarade</p> 
5	<p style="text-align: center;"><u>Entrainement</u></p> <div data-bbox="316 604 916 833"></div>  
	<h2>Essai 2</h2>

6	<p style="text-align: center;"><u>Remédiation</u></p> <ul style="list-style-type: none"><li>- Correction de la fiche essai 2 avec l'enseignant</li><li>- Relire la leçon</li><li>- Entrainement : écris le programme ci-dessous</li></ul> <div data-bbox="316 1400 858 1796"></div> <ol style="list-style-type: none"><li>1. Trace le ... de ... de côté.</li><li>2. Place le ...</li><li>3. ...</li><li>4. ...</li></ol>
	<h2>Essai 3</h2>