



1

Relire la leçon ou/et regarder la vidéo



2

Recherche

14 [AB] et [CD] sont les diamètres des cercles \mathcal{C}_1 et \mathcal{C}_2 .
Avec ton matériel de géométrie, trace les cercles \mathcal{C}_1 et \mathcal{C}_2 .

Réalise cette fiche.



3

Entrainement **

11 Avec ton matériel de géométrie, reproduis la figure aux dimensions indiquées.

Modèle réduit :






15 Avec ton matériel de géométrie, termine la frise et colorie-la.



Réalise ces 2 fiches.



Essai 1



4	<p style="text-align: center;"><u>Tutorat</u></p> <p>- Correction de la fiche essai 1 avec un camarade</p> 
5	<p style="text-align: center;"><u>Entrainement</u></p>   
	<h3>Essai 2</h3>

6	<p style="text-align: center;"><u>Remédiation</u></p> <ul style="list-style-type: none">- Correction de la fiche essai 2 avec l'enseignant- Relire la leçon- Entrainement : Réalise cette fiche <div data-bbox="411 1388 1066 1892" style="border: 1px solid black; padding: 10px;"><div style="display: flex; justify-content: space-between;">14<div style="border: 1px solid gray; padding: 5px;"><p>Avec ton matériel de géométrie, trace deux cercles concentriques de centre O. Les diamètres sont de 6 et 8 cm.</p></div></div><div style="text-align: center; margin-top: 20px;">o</div></div> 
	<h3>Essai 3</h3>