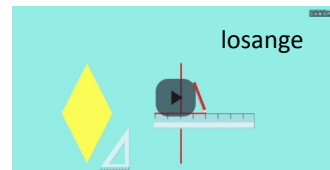




1

Relire la leçon ou/et regarder la vidéo



2

Entrainement

12 Avec ton matériel de géométrie, trace un carré EFGH de 5,5 cm de côté.

Réalise cette fiche.



3

Entrainement **








11 Avec ton matériel de géométrie, trace un losange IJKL dont [IJ] est un côté.




Réalise cette fiche.



Essai 1



4	<p style="text-align: center;"><u>Tutorat</u></p> <p>- Correction de la fiche essai 1 avec un camarade</p> 
5	<p style="text-align: center;"><u>Entrainement</u></p>   
	<h3>Essai 2</h3>

6	<p style="text-align: center;"><u>Remédiation</u></p> <ul style="list-style-type: none">- Correction de la fiche essai 2 avec l'enseignant- Relire la leçon- Entrainement : Réalise cette fiche <div data-bbox="464 1424 1134 1928" style="border: 1px solid black; padding: 10px;"><p>10 Avec ton matériel de géométrie, trace le rectangle EFGH dont [EF] est la longueur. [FG] = 5 cm.</p></div> 
	<h3>Essai 3</h3>