



Compétence : Placer les fractions sur une droite graduée


1

Relire la leçon ou/et regarder la vidéo



2

Recherche



Joue avec les cartes à tâches
(il y a deux jeux différents)



3

Entrainement

Place sur la droite graduée les fractions suivantes :

$$\frac{1}{2} ; \frac{1}{4} ; \frac{5}{2} ; \frac{9}{4} ; \frac{7}{2} ; \frac{6}{3}$$



Réalise la fiche.






Essai 1



Compétence : Placer les fractions sur une droite graduée

| | |
|-----------------------------------------------------------------------------------|------------------------------------------------------------------------------------------------------------------------------------------------------------------------------------------------------------------------------------------------------------------------------------------------------------------------------------------------------|
| 4 | <p style="text-align: center;"><u>Tutorat</u></p> <p>- Correction de la fiche essai 1 avec un camarade</p>  |
| 5 | <p style="text-align: center;"><u>Entrainement</u></p> <div data-bbox="343 600 943 831"></div>   |
|  | Essai 2 |

| | |
|-------------------------------------------------------------------------------------|---------------------------------------------------------------------------------------------------------------------------------------------------------------------------------------------------------------------------------------------------------------------------------------------------------------------------------------------------------------------------------------------------------------------------------------------------------------------------------------------------------------------------------------------|
| 6 | <p style="text-align: center;"><u>Remédiation</u></p> <ul style="list-style-type: none">- Correction de la fiche essai 2 avec l'enseignant- Relire la leçon- Entrainement : Jeu de manipulation <div data-bbox="890 1379 1350 1722"></div> <p><u>Réalise l'exercice suivant</u></p> <p style="text-align: center;">n° 5 page 21</p>  |
|  | Essai 3 |