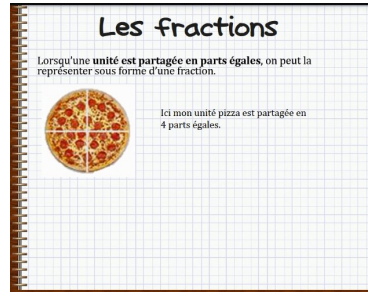




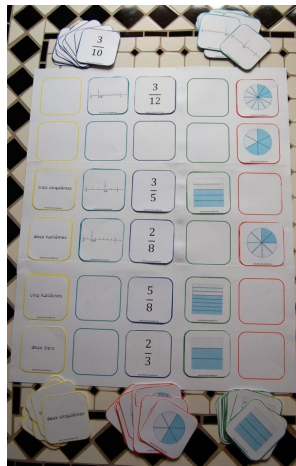
1

Relire la leçon ou/et regarder la vidéo



2

Recherche



Joue au « quinte des fractions »
avec un ou deux partenaires



3


Entrainement

Exercice :

Ecris les fractions en chiffres puis en lettres, comme l'exemple :

Découpe les étiquettes puis colle ensemble les 4 différentes représentations de la même fraction.

	$\frac{1}{2}$		$\frac{1}{4}$
$\frac{1}{3}$			

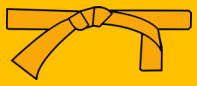




	$\frac{1}{3}$	un tiers

Réalise les deux fiches + n° 4 page 20



Essai 1



4	<p style="text-align: center;"><u>Tutorat</u></p> <p>- Correction de la fiche essai 1 avec un camarade</p> 
5	<p style="text-align: center;"><u>Entrainement</u></p>   
	<h2>Essai 2</h2>
6	<p style="text-align: center;"><u>Remédiation</u></p> <ul style="list-style-type: none">- Correction de la fiche essai 2 avec l'enseignant- Relire la leçon- Entrainement : Jeu de manipulation « le quintet des fractions » <p style="text-align: center;"><u>Réalise l'exercice n°2 page 20</u></p>  
	<h2>Essai 3</h2>