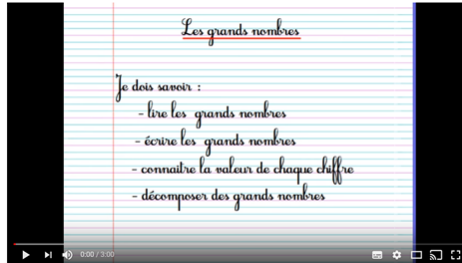




1

Relire la leçon ou/et regarder la vidéo



2

Jeu



Trouve un partenaire et jouez ensemble



3

Entrainement

Exercice 1 :
Recopie les nombres en espaçant correctement les classes :

158908498 : _____

685925840 : _____

9285964100 : _____

Exercice 2 :
Ecris en chiffres dans le tableau :
Trois-millions-sept-cent-trente-mille-cinq-cents
Onze-millions-quarante-cinq-mille-neuf-cent-un
Sept-milliards-deux-cent-quatre-vingt-deux-millions

milliards			millions			mille			unités		
centaines	dizaines	unités	centaines	dizaines	unités	centaines	dizaines	unités	centaines	dizaines	unités

- Réalise la fiche 1 en entier.
- Pour la fiche 2, le nombre du jour est
130 400

CM2 Le nombre du jour (2)

1/ écrire dans le tableau :

millions			mille			unités		
C	D	U	C	D	U	C	D	U

2/ Placer sur la droite graduée le nombre :



3/ Arrondis ce nombre au millier près :



Essai 1



<h2>4</h2>	<p><u>Tutorat</u></p> <p>- Correction de la fiche essai 1 avec un camarade</p> 
<h2>5</h2>	<p><u>Entrainement</u></p>   
	<h2>Essai 2</h2>

<h2>6</h2>	<p style="text-align: center;"><u>Remédiation</u></p> <p>- Correction de la fiche essai 2 avec l'enseignant - Relire la leçon - Entrainement : Le nombre du jour est 129 700</p> <div style="border: 1px solid black; padding: 5px; margin: 10px auto; width: fit-content;"> <p>CM2 Le nombre du jour (2)</p> <p>1/ écrire dans le tableau :</p> <table border="1" style="margin: 0 auto; text-align: center;"> <thead> <tr> <th colspan="3">millions</th> <th colspan="3">mille</th> <th colspan="3">unités</th> </tr> <tr> <th>C</th><th>D</th><th>U</th> <th>C</th><th>D</th><th>U</th> <th>C</th><th>D</th><th>U</th> </tr> </thead> <tbody> <tr> <td> </td><td> </td><td> </td> <td> </td><td> </td><td> </td> <td> </td><td> </td><td> </td> </tr> </tbody> </table> <p>2/ Placer sur la droite graduée le nombre :</p>  <p>3/ Arrondis ce nombre au millier près :</p> </div> <p><u>Ecris ces nombres en chiffres :</u></p> <p><input type="checkbox"/> un milliard deux cent trente millions quatre vingt dix neuf</p> <p><input type="checkbox"/> trois millions trois cent mille trois cent trente trois</p> <p><input type="checkbox"/> trente deux milliards huit cent mille quatre-vingts</p>	millions			mille			unités			C	D	U	C	D	U	C	D	U									
millions			mille			unités																						
C	D	U	C	D	U	C	D	U																				
	<h2>Essai 3</h2>																											

