



1

Relire la leçon ou/et regarder la vidéo



Mathématiques – Géométrie

Le programme de construction

⇒ *Le vocabulaire géométrique*



Mathématiques – Géométrie

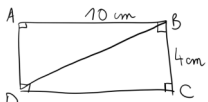
Le programme de construction



2

Entrainement pas à pas

Exercice :
Un élève a tracé une figure à main levée :




Écris les étapes qui permettent de refaire la même figure :

Réalise cette fiche



3

Entrainement**











Réalise les exercices n° 2 et 4 page 132



Essai 1



Compétence : Suivre un programme de construction

4	<p style="text-align: center;"><u>Tutorat</u></p> <p>- Correction de la fiche essai 1 avec un camarade</p> 
	<p style="text-align: center;"><u>Entrainement</u></p> <div style="display: flex; justify-content: space-around; align-items: center;"></div>
	<h2>Essai 2</h2>
	<p style="text-align: center;"><u>Remédiation</u></p> <ul style="list-style-type: none">- Correction de la fiche essai 2 avec l'enseignant- Relire la leçon- Entrainement : Entrainement sur fiche <div style="display: flex; justify-content: space-around; align-items: center;"><p>Réalise l'exercice n°3 page 132</p></div>
	<h2>Essai 3</h2>