



# 1

### Relire la leçon ou/et regarder la vidéo

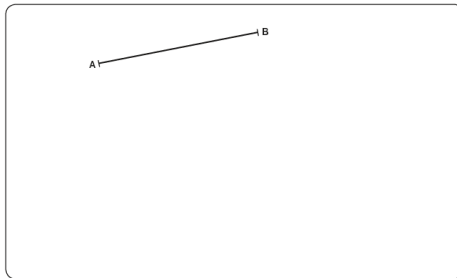


# 2

### Entrainement pas à pas

**9**

Avec ton matériel de géométrie, trace le carré ABCD dont [AB] est un côté.



Réalise cette fiche

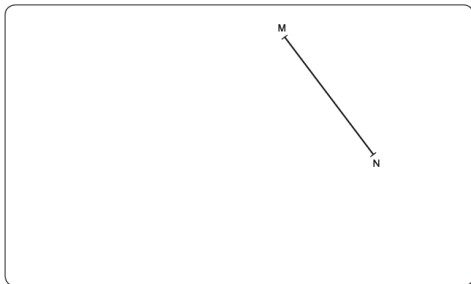


# 3

### Entrainement\*\*

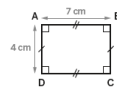
**12**

Avec ton matériel de géométrie, trace un quadrilatère MNOP dont [MN] est un côté. Le quadrilatère doit posséder un angle droit.

**11**

Avec ton matériel de géométrie, reproduis le rectangle ABCD aux dimensions indiquées.

Modèle réduit :



Réalise ces 2 fiches



## Essai 1



### 4

### Tutorat


- Correction de la fiche essai 1 avec un camarade



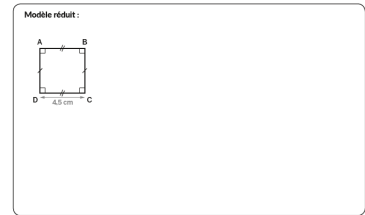
### 5

### Entrainement

**10** Avec ton matériel de géométrie, trace un losange EFGH avec [EF] = 5 cm.



**7** Avec ton matériel de géométrie, reproduis le carré ABCD aux dimensions indiquées.



Réalise ces fiches



### Essai 2

### 6

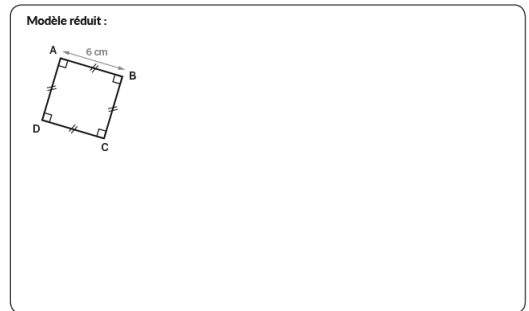
### Remédiation

- Correction de la fiche essai 2 avec l'enseignant
- Relire la leçon
- Entrainement : Entrainement sur fiche

**8** Avec ton matériel de géométrie, trace un losange EFGH avec [EF] = 6 cm.



**9** Avec ton matériel de géométrie, reproduis le carré ABCD aux dimensions indiquées sur le modèle.



### Essai 3