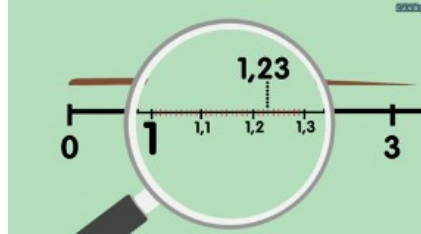




**Compétence** : Placer des décimaux sur une droite graduée

1

Relire la leçon ou/et regarder la vidéo



2

Recherche




Trouve un partenaire et  
joue à ce jeu



3

Entrainement












Réalise les exercices  
6 et 8 page 35



**Essai 1**



4	<p style="text-align: center;"><u>Tutorat</u></p> <p>- Correction de la fiche essai 1 avec un camarade</p> 
5	<p style="text-align: center;"><u>Entrainement</u></p>   
	<b>Essai 2</b>
6	<p style="text-align: center;"><u>Remédiation</u></p> <ul style="list-style-type: none"><li>- Correction de la fiche essai 2 avec l'enseignant</li><li>- Relire la leçon</li><li>- Entrainement :</li></ul>   
	<b>Essai 3</b>