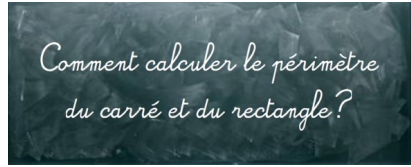






1

### Relire la leçon ou/et regarder la vidéo



2

### Recherche

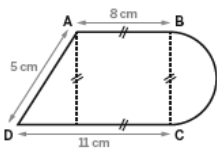


3

### Entrainement

13

Calcule le périmètre de la figure ci-dessous. [BC] est le diamètre du demi-cercle.

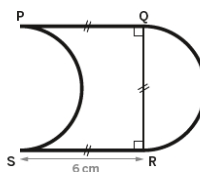


Calculs : .....

Réponse : .....

12

Calcule le périmètre de la figure ci-dessous. [PS] et [QR] sont les diamètres des demi-cercles.



Calculs : .....

Réponse : .....



## Essai 1



4



### Tutorat

- Correction de la fiche essai 1 avec un camarade



5

### Entrainement




### Essai 2

6

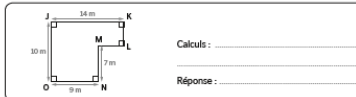
### Remédiation

- Correction de la fiche essai 2 avec l'enseignant
- Relire la leçon
- Entrainement :

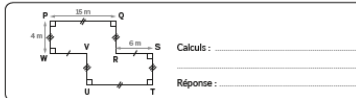
15 Calcule le périmètre de la figure ci-dessous.




16 Calcule le périmètre de la figure ci-dessous.



17 Calcule le périmètre de la figure ci-dessous.



18 Calcule le périmètre de la figure ci-dessous.



### Essai 3