



1

Relire la leçon ou/et regarder la vidéo



2

Recherche



Hafsia achète chaque mois 3 packs de 6 bouteilles de jus d'orange. Chaque bouteille contient 0,25 **daL**.

- Combien de **litres** de jus consomme-t-elle en un mois ?
- En juin, elle a bu 230 **cL** de moins que d'habitude. Combien a-t-elle consommé de jus ?



Conseil : convertis tes mesures en litres.

3

Entrainement








Dans un zoo, un chimpanzé boit 0,6 L d'eau à chaque repas. Il est nourri 2 fois par jour.

- Combien de litres d'eau boit-il en une semaine ?
- Il y a 15 chimpanzés dans le zoo. Combien de daL d'eau par jour doit prévoir le soigneur ?



Essai 1



4	<p style="text-align: center;"><u>Tutorat</u></p> <p>- Correction de la fiche essai 1 avec un camarade</p> 
5	<p style="text-align: center;"><u>Entrainement</u></p>   
	<h2>Essai 2</h2>
6	<p style="text-align: center;"><u>Remédiation</u></p> <ul style="list-style-type: none"><li>- Correction de la fiche essai 2 avec l'enseignant</li><li>- Relire la leçon</li><li>- Entrainement :</li></ul> <p>Malaxtout, le sorcier a invité quelques amis pour son anniversaire. Il leur prépare sa potion préférée, « Le jus délicieux ».</p> <p>Pour cela, il a déjà mélangé 28 cL de jus d'escargot, 1 L de bave de crapaud et 7,2 dL de larmes de crocodiles.</p> <p>Quelle quantité de soupe de crottes de lapins doit-il ajouter pour obtenir 3 L de potion ?</p> 
	<h2>Essai 3</h2>