




**Compétence** : Placer des nombres entiers sur une droite graduée

1

Relire la leçon ou/et regarder la vidéo




*Placer un entier sur  
une droite graduée  
(2)*



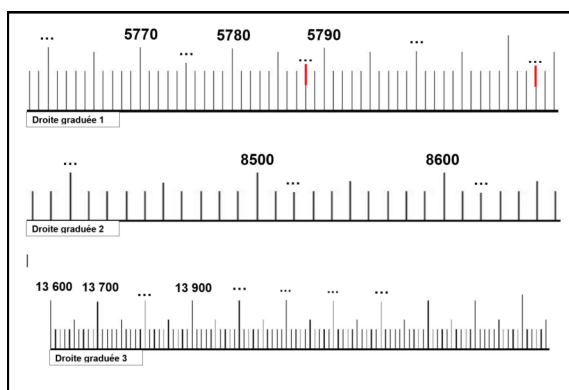
2

Découverte



3

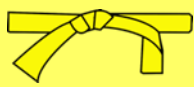
Exercices



Réalise la fiche en entier








**Essai 1**







# Numération

4

**Compétence** : Placer des nombres entiers sur une droite graduée

4	<p style="text-align: center;"><u>Tutorat</u></p> <p>- Correction de la fiche essai 1 avec un camarade</p> 
5	<p style="text-align: center;"><u>Entrainement</u></p>   
	<b>Essai 2</b>

6	<p style="text-align: center;"><u>Remédiation</u></p> <ul style="list-style-type: none"><li>- Correction de la fiche essai 2 avec l'enseignant</li><li>- Relire la leçon</li><li>- Entrainement : Faire des droites graduées</li></ul>   <p><u>A toi de jouer !</u></p> <p>Réalise une droite graduée d'écart 1000 sur ton cahier. Place les nombres 5 000, 6 000 et 7 000 comme repères Place ensuite les nombres 5 800, 6 600 et 7 200</p> 
	<b>Essai 3</b>