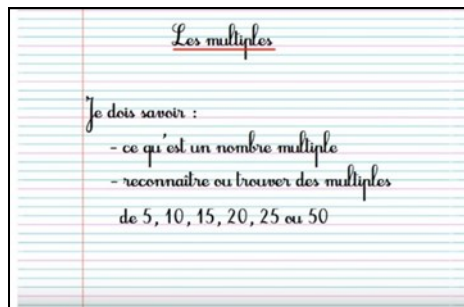




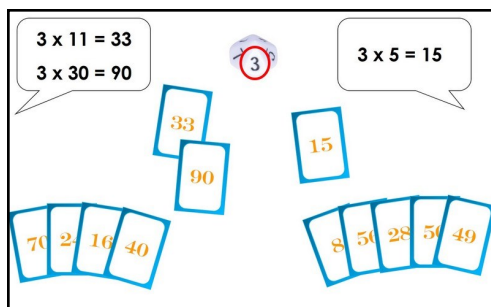
1

Relire la leçon ou/et regarder la vidéo



2

Recherche



- Trouve un partenaire et jouez ensemble

3

Jeu de manipulation

Exercice 1 :
- Ecris 4 multiples des nombres suivants :

6 : ... , ... , ... , ...

9 : ... , ... , ... , ...

13 : ... , ... , ... , ...

Exercice 2 :
- Ecris un multiple de 9 compris entre 100 et 200 : ...
- Ecris un diviseur de 72 : ...

Exercice 3 :
Complète avec les diviseurs qui manquent :
4 x ... = 36 ... x 3 = 15
7 x ... = 42 ... x 8 = 240

Exercice 4 :
Trouve un nombre qui est en même temps multiple de 4 et multiple de 3 : ...



- Réalise la fiche en entier.

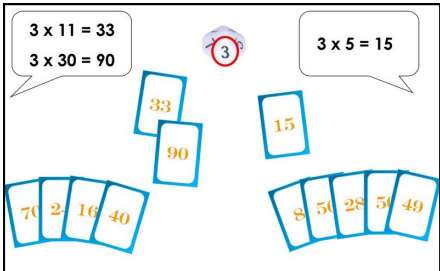




Essai 1



Compétence : Connaître les multiples des nombres de 1 à 10

4	<p style="text-align: center;"><u>Tutorat</u></p> <p>- Correction de la fiche essai 1 avec un camarade</p> 
5	<p style="text-align: center;"><u>Entrainement</u></p>   
	<h2>Essai 2</h2>

6	<p style="text-align: center;"><u>Remédiation</u></p> <p>- Correction de la fiche essai 2 avec l'enseignant - Relire la leçon - Entrainement : Jeu de manipulation</p>  <ul style="list-style-type: none">• <u>Entraîne-toi</u> :  
	<h2>Essai 3</h2>

