



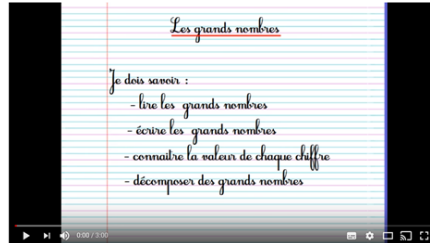
Numération

1

Compétence : Ecrire en lettres et en chiffres les nombres entiers

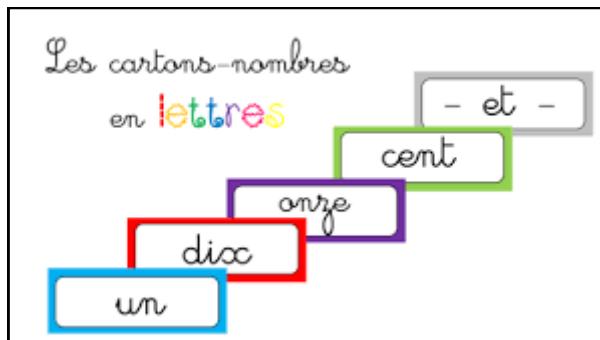
1

Relire la leçon ou/et regarder la vidéo



2

Recherche



- A l'aide des étiquettes, écris tous les nombres possibles .



3

Exercices

Exercice 1 : Écris en chiffres les nombres :

Huit-cent-dix-sept-mille-deux-cent-neuf =

Deux-millions-trois-cent-soixante-mille-cinq-cents =

Un-million-sept-cent-trente-mille-cent-cinquante-quatre =

Exercice 2 :

1/ Écris chaque nombre en séparant correctement les classes.

34587345 ⇒ 34 587 345

1578901

25858099

1987250123

2/ Entoure en bleu le chiffre des dizaines de mille pour chaque nombre

Exercice 3 : écris en lettres les nombres dans ton cahier de mathématiques :

5 428 900

1 400 520 950

- Réalise la fiche en entier



Essai 1

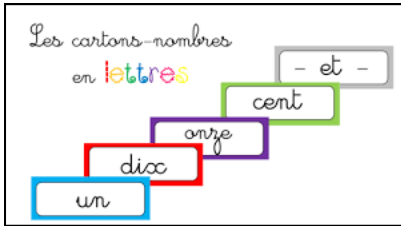





Numération

1

Compétence : Ecrire en lettres et en chiffres les nombres entiers

4	<p style="text-align: center;"><u>Tutorat</u></p> <p>- Correction de la fiche essai 1 avec un camarade</p> 
5	<p style="text-align: center;"><u>Entrainement</u></p>   
	<h2>Essai 2</h2>

6	<p style="text-align: center;"><u>Remédiation</u></p> <p>- Correction de la fiche essai 2 avec l'enseignant - Relire la leçon - Entrainement : Jeu de manipulation</p>   <p><u>Place les nombres suivants dans le tableau des nombres :</u></p> <ul style="list-style-type: none">• Trois millions six cent neuf mille quatre cent vingt trois• Dix millions cinquante deux mille huit• Vingt neuf millions trente mille cent quatre vingt dix neuf 
	<h2>Essai 3</h2>