

**Compétence** : Identifier les angles d'une figure


1

Relire la leçon ou/et regarder la vidéo



2

Recherche

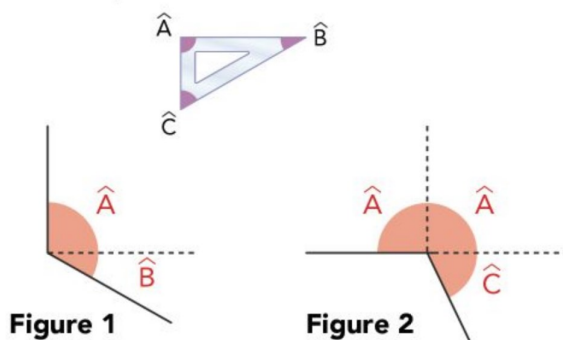


- Réalise les exercices 1 et 3 page 88



3

Entrainement



Reproduis ces angles en utilisant les angles de ton équerre.

(exercice 4 p 88 Maths explicite)



**Essai 1**



**Compétence** : Identifier les angles d'une figure

4


## Tutorat

- Correction de la fiche essai 1 avec un camarade



5

## Entrainement



## Essai 2

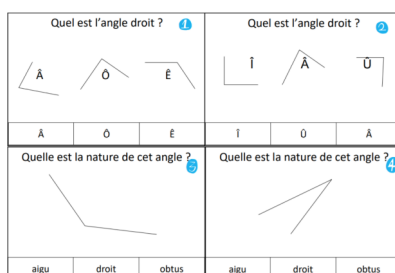
6

## Remédiation

- Correction de la fiche essai 2 avec l'enseignant
- Relire la leçon
- Entrainement : Réalise un angle aigu, un angle droit et un angle obtu avec ton équerre.



Utilise les cartes à pince (du site [jeuxdecole.net](http://jeuxdecole.net))



## Essai 3