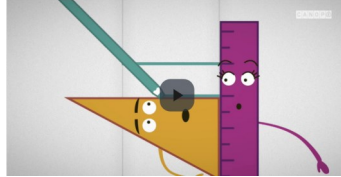



1

Relire la leçon ou/et regarder la vidéo



les parallèles




les perpendiculaires



2

Recherche



Trie ces cartes en 3 catégories :

- les droites parallèles,
- les droites perpendiculaires,
- les droites qui ne sont ni parallèles, ni perpendiculaires



3

Entrainement

Exercice :

Exercice :
Trace une droite perpendiculaire à cette droite (repasse-la en bleu) :
Trace une droite parallèle à cette droite (repasse-la en jaune)

Exercice :
Trace la perpendiculaire à la droite qui passe par le point A :
Trace la parallèle à la droite qui passe par le point A :

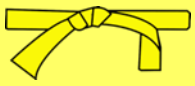
Coche la bonne réponse :

(d1) est perpendiculaire à (d4)	<input type="checkbox"/> vrai	<input type="checkbox"/> faux
(d1) est perpendiculaire à (d2)	<input type="checkbox"/> vrai	<input type="checkbox"/> faux
(d2) est parallèle à (d4)	<input type="checkbox"/> vrai	<input type="checkbox"/> faux
(d2) est perpendiculaire à (d3)	<input type="checkbox"/> vrai	<input type="checkbox"/> faux
(d3) est perpendiculaire à (d5)	<input type="checkbox"/> vrai	<input type="checkbox"/> faux
(d2) est parallèle à (d5)	<input type="checkbox"/> vrai	<input type="checkbox"/> faux

Réalise cette fiche



Essai 1



Compétence : Tracer des droites parallèles et perpendiculaires

4	<p style="text-align: center;"><u>Tutorat</u></p> <p>- Correction de la fiche essai 1 avec un camarade</p> 
<p>5</p> 	<p style="text-align: center;"><u>Entrainement</u></p>  <p>Réalise les exercices 2 et 5 page 116</p>
	<h2>Essai 2</h2>
<p>6</p> 	<p style="text-align: center;"><u>Remédiation</u></p> <ul style="list-style-type: none">- Correction de la fiche essai 2 avec l'enseignant- Relire la leçon- Entrainement : Rappel <div style="display: flex; justify-content: space-around; align-items: center;"></div> <p style="text-align: center;"><u>Trace deux droites parallèles d écart 5 cm</u> <u>et deux droites perpendiculaires</u></p>
	<h2>Essai 3</h2>