

1

### Relire la leçon ou/et regarder la vidéo



Mathématiques – Géométrie

**Le programme de construction**

⇒ *Le vocabulaire géométrique*



Mathématiques – Géométrie

**Le programme de construction**



2

### Recherche



**1** Réponds en rouge la partie indiquée.

(AB)                      (CD)

**2** Réponds en rouge la partie indiquée.

(EF)                      (GH)                      (IJ)

**3** Coche les affirmations qui sont vraies.

A ∈ (CB)     A ∈ (CB)     B ∈ (CA)     K ∈ (AC)  
 C ∈ (AB)     K ∉ (AB)     B ∈ (AC)     C ∉ (CB)

**4** Indique le nom de la partie épaisse.

Réalise ces fiches.



3

### Entraînement

28

Avec ton matériel de géométrie, suis le programme de construction :

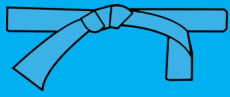
- Trace un cercle  $\mathcal{C}$  de diamètre 14 cm et de centre O.
- Place un point A sur ce cercle.
- À partir du point A, reporte la longueur du rayon sur le cercle pour placer le point B. Place progressivement les points C, D, E et F de cette manière.
- Trace les triangles AFB, EFD et CBD.
- Place les points G milieu de [FD], H milieu de [FB], et I milieu de [BD].
- Trace les segments [AH], [IC] et [GE].
- Trace le triangle HGI.









Réalise cette fiche.



## Essai 1



4	<p style="text-align: center;"><u>Tutorat</u></p> <p>- Correction de la fiche essai 1 avec un camarade</p> 
5	<p style="text-align: center;"><u>Entrainement</u></p>   
	<h2>Essai 2</h2>

6	<p style="text-align: center;"><u>Remédiation</u></p> <ul style="list-style-type: none"><li>- Correction de la fiche essai 2 avec l'enseignant</li><li>- Relire la leçon</li><li>- Entrainement :</li></ul> <p><u>Réalise l'exercice 8 page 133</u></p> 
	<h2>Essai 3</h2>