

1

Relire la leçon ou/et regarder la vidéo



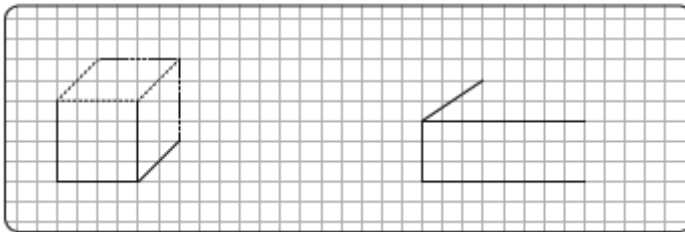
2

Recherche



25

Avec ton matériel de géométrie, termine le tracé en perspective cavalière de chaque parallélépipède rectangle.



Réalise cette fiche.



3

Entraînement


22

Avec ton matériel de géométrie, construis un cube en perspective cavalière comme sur le modèle.

Modèle réduit :



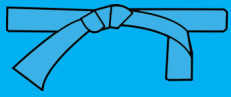
5 cm



Réalise cette fiche.



Essai 1



4

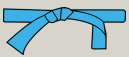


Tutorat

- Correction de la fiche essai 1 avec un camarade



5

Entrainement



Essai 2

6

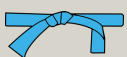
Remédiation

- Correction de la fiche essai 2 avec l'enseignant
- Relire la leçon
- Entrainement :

Réalise cette fiche

23 Avec ton matériel de géométrie, reproduis le prisme droit comme sur le modèle.

Modèle :



Essai 3