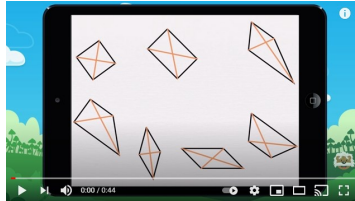



1

Relire la leçon ou/et regarder la vidéo



2

Recherche



Réalise cette fiche.



3

Entraînement

7 Avec ton matériel de géométrie, reproduis le carré ABCD aux dimensions indiquées.

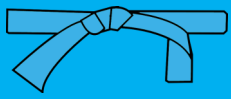
Modèle réduit :

8 Avec ton matériel de géométrie, trace un rectangle EFGH dont les diagonales mesurent 12 cm.

Réalise ces 2 fiches.



Essai 1



4



Tutorat

- Correction de la fiche essai 1 avec un camarade



5

Entrainement



Essai 2

6

Remédiation

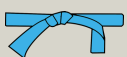
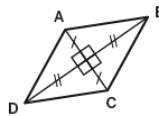
- Correction de la fiche essai 2 avec l'enseignant
- Relire la leçon
- Entrainement :

Réalise cette fiche

7

Avec ton matériel de géométrie, reproduis le losange ABCD aux dimensions indiquées.
[AC] = 4 cm et [BD] = 8 cm.

Modèle réduit :



Essai 3