

8A

Calculs en ligne

$60 \times 4 = 240$

$400 \times 3 = 1\ 200$

$70 \times 5 = 350$

$9 \times 300 = 2\ 700$

$90 \times 4 = 360$

$800 \times 5 = 4\ 000$

$6 \times 50 = 300$

$700 \times 7 = 4\ 900$

$8 \times 70 = 560$

$500 \times 4 = 2\ 000$

8B

Calculs en ligne

$6 \times 25 = 150$

$8 \times 25 = 200$

$5 \times 25 = 125$

Combien de fois 10 dans 250 : 25

$10 \times 25 = 250$

Combien de fois 20 dans 500 : 25

$12 \times 25 = 300$

Combien de fois 25 dans 150 : 6

$20 \times 25 = 500$

Combien de fois 15 dans 300 : 20

Lala aime sa classe

8C

Opérations

$$\begin{array}{r} 1\ 1\ 1 \\ 999 \\ + 6\ 543 \\ \hline 7\ 542 \end{array}$$

$$\begin{array}{r} 7\ 000 \\ 1\ 1\ 1 \\ - 11\ 917\ 2 \\ \hline 5\ 028 \end{array}$$

$$\begin{array}{r} 6 \\ 2\ 107 \\ \times 9 \\ \hline 18\ 963 \end{array}$$

8D

Opérations

$$\begin{array}{r} 982 \\ \times 11 \\ \hline 1\ 1\ 982 \\ + 9\ 820 \\ \hline 10\ 802 \end{array}$$

$$\begin{array}{r} 3 \\ 3\ 61 \\ \times 6 \\ \hline 2\ 166 \end{array}$$

$$\begin{array}{r} 2\ 1 \\ 3\ 2 \\ 743 \\ \times 68 \\ \hline 1\ 1\ 5944 \\ + 37580 \\ \hline 43524 \end{array}$$

8E

Calculs en ligne

Calcule.

$25 + 9 = 34$

$25 - 9 = 16$

$44 + 8 = 52$

$44 - 8 = 36$

$404 + 9 = 413$

$404 - 9 = 395$

$29 + 11 = 40$

$29 - 11 = 18$

$250 + 12 = 262$

$150 - 7 = 143$

8F

Fractions

⇒ Colorie le nombre d'étoiles correspondant à la fraction



Lala aime sa classe

8G

Durée

1. L'avion Pais-Nice décolle de l'aéroport d'Orly à 10h50. Son arrivée à Nice est prévue à 12h15.

Quelle est la durée du vol ? **1h25**

2. Le ferry Nice-Ajaccio quitte Nice à 23h45. L'arrivée à Ajaccio est à 9h30 le lendemain matin.

Quelle est la durée de la traversée ? **9H45**

8H

Lectures d'énoncés

- ◆ Samuel a acheté 15 paquets de 10 enveloppes. **Combien a-t-il acheté d'enveloppes ? 150 enveloppes**
- ◆ Lima veut acheter 200 enveloppes. Elles sont vendues par paquets de 20 enveloppes. **Combien doit-elle demander de paquets ? 10 paquets**
- ◆ Chloé a besoin de 160 enveloppes. **Combien doit-elle acheter de paquets ? 16 paquets**
- ◆ Un magasin reçoit 1 200 enveloppes. Elles sont dans 10 gros paquets, tous pareils. **Combien y a-t-il d'enveloppes dans chacun de ces gros paquets ? 120 enveloppes**
- ◆ Un magasin a besoin de 5 000 enveloppes. **Combien doit-il commander de paquets de 100 enveloppes ? 50 paquets**

8i

Nombres en lettres

vingt-deux millions vingt-deux mille vingt-deux	22 022 022	cent dix millions cent dix mille	110 110 000
neuf cents millions	900 000 000	huit millions huit cents	8 000 800
douze millions douze	12 000 012	un million sept mille	1 007 000

8j

Fractions

⇒ Colorie le nombre d'étoiles correspondant à la fraction




Lala aime sa classe

8k

Périmètre

Quel est le périmètre de ce carré?
Exprime-le en cm et mm.




.....

.....

8l

Périmètre

Quel est le périmètre de ce rectangle ?
Exprime-le en cm et mm.



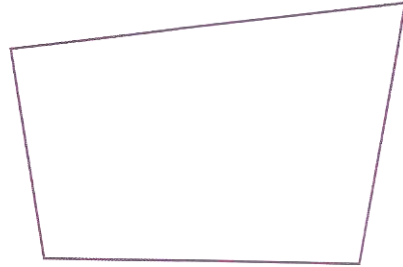
.....

.....

8M

Périmètre

Quel est le périmètre de ce polygone?
Exprime-le en cm et mm.



.....
.....

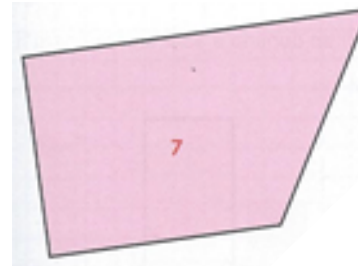
Lala aime sa classe

8N

Description de polygones



➔ Coche les bonnes réponses



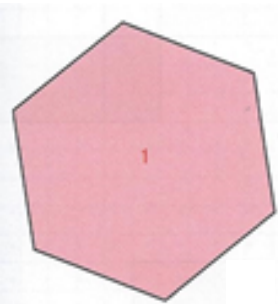
J'ai des angles droits	<input type="checkbox"/>	Je n'ai pas d'angle droit	<input checked="" type="checkbox"/>
J'ai des côtés égaux	<input type="checkbox"/>	Je n'ai pas de côtés égaux	<input checked="" type="checkbox"/>
J'ai des côtés parallèles	<input checked="" type="checkbox"/>	Je n'ai pas de côtés parallèles	<input type="checkbox"/>

8O

Description de polygones



➔ Coche les bonnes réponses



J'ai des angles droits	<input type="checkbox"/>	Je n'ai pas d'angle droit	<input checked="" type="checkbox"/>
J'ai des côtés égaux	<input checked="" type="checkbox"/>	Je n'ai pas de côtés égaux	<input type="checkbox"/>
J'ai des côtés parallèles	<input checked="" type="checkbox"/>	Je n'ai pas de côtés parallèles	<input type="checkbox"/>

8P

Description de polygones



➔ Coche les bonnes réponses



J'ai des angles droits	<input checked="" type="checkbox"/>	Je n'ai pas d'angle droit	<input type="checkbox"/>
J'ai des côtés égaux	<input type="checkbox"/>	Je n'ai pas de côtés égaux	<input checked="" type="checkbox"/>
J'ai des côtés parallèles	<input checked="" type="checkbox"/>	Je n'ai pas de côtés parallèles	<input type="checkbox"/>

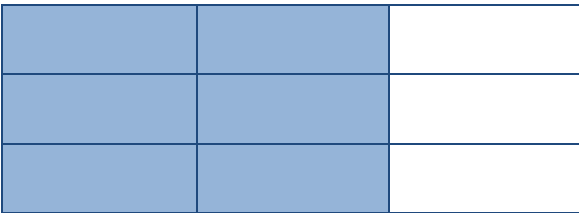
8Q

Aire et fraction

→ Exprime l'aire de la partie coloriée à l'aide d'une fraction



$$\frac{1}{3} \quad / \quad \frac{2}{6}$$



$$\frac{2}{3} \quad / \quad \frac{6}{9}$$

Lala aime sa classe

8R

Aire et fraction

→ Exprime l'aire de la partie coloriée à l'aide d'une fraction



$$\frac{3}{7}$$



$$\frac{1}{2} \quad / \quad \frac{4}{8}$$



$$\frac{1}{2} \quad / \quad \frac{2}{4}$$

8S

Aire et fraction

→ Exprime l'aire de la partie coloriée à l'aide d'une fraction



$$\frac{2}{3}$$

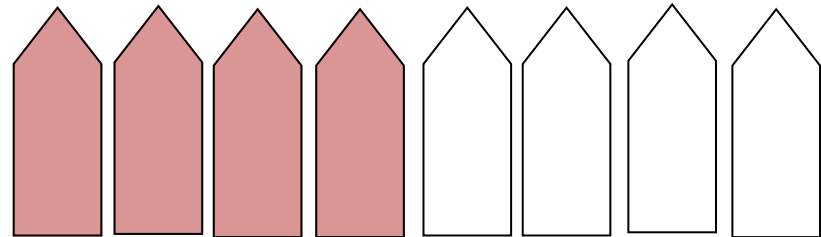


$$\frac{2}{3} \quad / \quad \frac{4}{6}$$

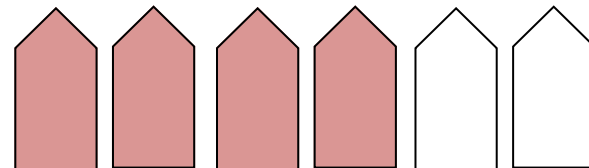
8T

Fractions

⇒ Colorie le nombre de maisons correspondant à la fraction



$$\frac{2}{4}$$



$$\frac{2}{3}$$