

8A**Calculs en ligne**

$60 \times 4 = \dots\dots\dots$

$400 \times 3 = \dots\dots\dots$

$70 \times 5 = \dots\dots\dots$

$9 \times 300 = \dots\dots\dots$

$90 \times 4 = \dots\dots\dots$

$800 \times 5 = \dots\dots\dots$

$6 \times 50 = \dots\dots\dots$

$700 \times 7 = \dots\dots\dots$

$8 \times 70 = \dots\dots\dots$

$500 \times 4 = \dots\dots\dots$

8B**Calculs en ligne**

$6 \times 25 = \dots\dots\dots$

$8 \times 25 = \dots\dots\dots$

$5 \times 25 = \dots\dots\dots$

Combien de fois 10 dans 250 :

$10 \times 25 = \dots\dots\dots$

Combien de fois 20 dans 500 :

$12 \times 25 = \dots\dots\dots$

Combien de fois 25 dans 150 :

$20 \times 25 = \dots\dots\dots$

Combien de fois 15 dans 300 :

Lala aime sa classe

8C**Opérations**

$$\begin{array}{r} 999 \\ + 6543 \\ \hline \end{array}$$

$$\begin{array}{r} 7000 \\ - 1972 \\ \hline \end{array}$$

$$\begin{array}{r} 2107 \\ \times 9 \\ \hline \end{array}$$

8D**Opérations**

$$\begin{array}{r} 982 \\ \times 11 \\ \hline \end{array}$$

$$\begin{array}{r} 361 \\ \times 6 \\ \hline \end{array}$$

$$\begin{array}{r} 743 \\ \times 68 \\ \hline \end{array}$$

8E**Calculs en ligne****Calcule.**

$25 + 9 = \dots\dots\dots$

$25 - 9 = \dots\dots\dots$

$44 + 8 = \dots\dots\dots$

$44 - 8 = \dots\dots\dots$

$404 + 9 = \dots\dots\dots$

$404 - 9 = \dots\dots\dots$

$29 + 11 = \dots\dots\dots$

$29 - 11 = \dots\dots\dots$

$250 + 12 = \dots\dots\dots$

$150 - 7 = \dots\dots\dots$

Lala aime sa classe

8F**Fractions**

⇒ Colorie le nombre d'étoiles correspondant à la fraction

**8G****Durée**

1. L'avion Pais-Nice décolle de l'aéroport d'Orly à 10h50. Son arrivée à Nice est prévue à 12h15.

Quelle est la durée du vol ?

2. Le ferry Nice-Ajaccio quitte Nice à 23h45. L'arrivée à Ajaccio est à 9h30 le lendemain matin.

Quelle est la durée de la traversée ?**8H****Lectures d'énoncés**

- ◆ Samuel a acheté 15 paquets de 10 enveloppes. **Combien a-t-il acheté d'enveloppes ?**.....
- ◆ Lima veut acheter 200 enveloppes. Elles sont vendues par paquets de 20 enveloppes. **Combien doit-elle demander de paquets?**
- ◆ Chloé a besoin de 160 enveloppes. **Combien doit-elle acheter de paquets ?**.....
- ◆ Un magasin reçoit 1 200 enveloppes. Elles sont dans 10 gros paquets, tous pareils. **Combien y a-t-il d'enveloppes dans chacun de ces gros paquets?**.....
- ◆ Un magasin a besoin de 5 000 enveloppes. **Combien doit-il commander de paquets de 100 enveloppes?**.....

8i

Nombres en lettres

vingt-deux millions vingt-deux mille vingt-deux		cent dix millions cent dix mille	
neuf cents millions		huit millions huit cents	
douze millions douze		un million sept mille	

8j

Fractions

⇒ Colorie le nombre d'étoiles correspondant à la fraction




Lala aime sa classe

8k

Périmètre

Quel est le périmètre de ce carré?
Exprime-le en cm et mm.



.....

.....

8l

Périmètre

Quel est le périmètre de ce rectangle ?
Exprime-le en cm et mm.



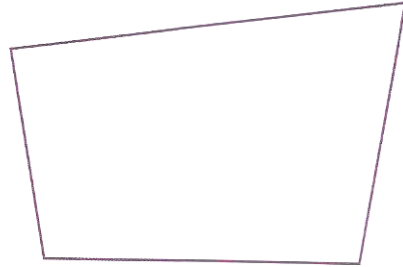
.....

.....

8M

Périmètre

Quel est le périmètre de ce polygone?
Exprime-le en cm et mm.



.....

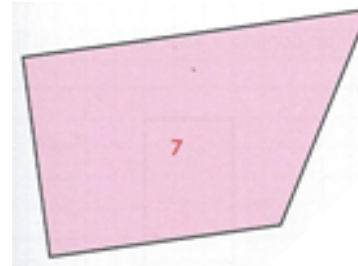
.....

8N

Description de polygones



➔ Coche les bonnes réponses



J'ai des angles droits	<input type="checkbox"/>	Je n'ai pas d'angle droit	<input type="checkbox"/>
J'ai des côtés égaux	<input type="checkbox"/>	Je n'ai pas de côtés égaux	<input type="checkbox"/>
J'ai des côtés parallèles	<input type="checkbox"/>	Je n'ai pas de côtés parallèles	<input type="checkbox"/>

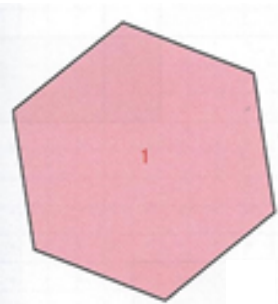
Lala aime sa classe

8O

Description de polygones



➔ Coche les bonnes réponses



J'ai des angles droits	<input type="checkbox"/>	Je n'ai pas d'angle droit	<input type="checkbox"/>
J'ai des côtés égaux	<input type="checkbox"/>	Je n'ai pas de côtés égaux	<input type="checkbox"/>
J'ai des côtés parallèles	<input type="checkbox"/>	Je n'ai pas de côtés parallèles	<input type="checkbox"/>

8P

Description de polygones



➔ Coche les bonnes réponses



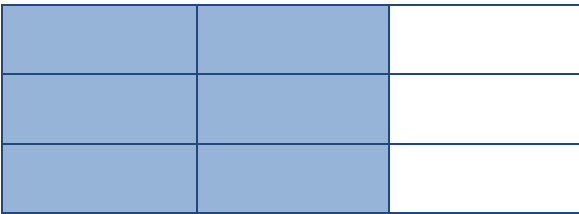
J'ai des angles droits	<input type="checkbox"/>	Je n'ai pas d'angle droit	<input type="checkbox"/>
J'ai des côtés égaux	<input type="checkbox"/>	Je n'ai pas de côtés égaux	<input type="checkbox"/>
J'ai des côtés parallèles	<input type="checkbox"/>	Je n'ai pas de côtés parallèles	<input type="checkbox"/>

8Q

Aire et fraction

→ Exprime l'aire de la partie coloriée à l'aide d'une fraction





Lala aime sa classe

8R

Aire et fraction

→ Exprime l'aire de la partie coloriée à l'aide d'une fraction







8S

Aire et fraction

→ Exprime l'aire de la partie coloriée à l'aide d'une fraction





8T

Fractions

⇒ Colorie le nombre de maisons correspondant à la fraction

