

1 Compare les nombres suivants :

12,203 13,203


15,670.....15,76

65,2865,080

7,78.....1,877


28,5.....28,60

29,9.....29,870



2 Range ces nombres dans l'ordre croissant.

120,34 - 120,4 - 120,04 - 120,43 - 120,004 - 120,3




3 Encadre des nombres décimaux entre 2 décimaux au dixième près.

..... < 5,69 <

..... < 9,26 <

..... < 0,755 <

..... < 99,82 <



4 Complète le tableau par un nombre compris entre les 2 nombres donnés.

0	1
99	100
26,5	26,6
43,580	43,59

