
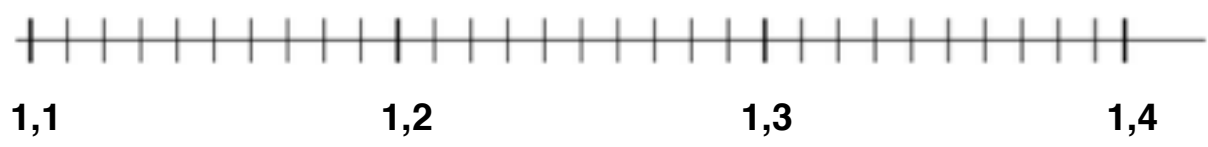
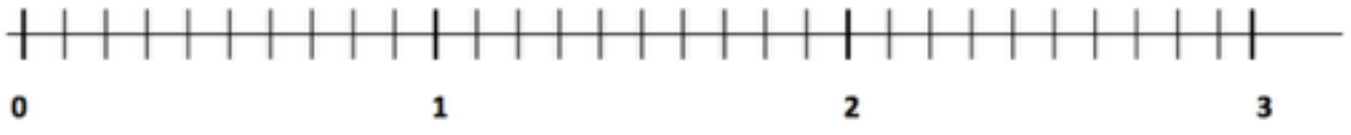

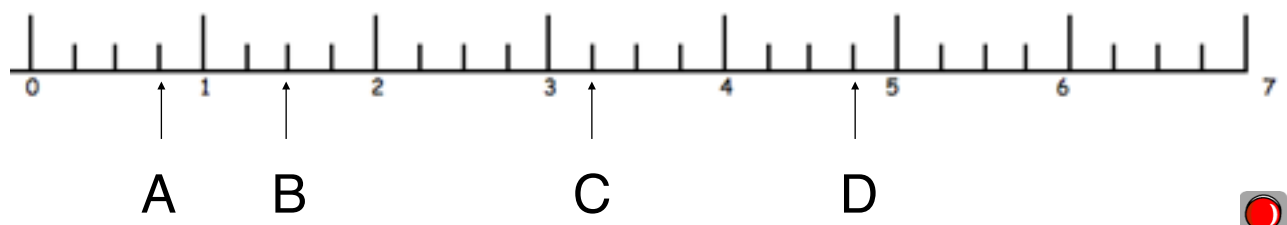


**1** Place ces lettres à l'endroit qui convient :

A = 0,6    B = 1,17    C = 1,8    D = 1,24    E = 2,5    F = 1,35



**2** Trouve le nombre décimal qui correspond à chaque lettre



**3** Trace une ligne graduée en dixièmes et place les nombres suivants :

14,2 - 14,5 - 14,7 - 15 - 15,6

