


### 1 Recompose ces nombres décimaux

$(6 \times 100) + (3 \times 0,1) + (8 \times 0,001) =$  \_\_\_\_\_

$(4 \times 10) + (5 \times 0,01) + (9 \times 0,001) =$  \_\_\_\_\_




### 2 Ecris en chiffres les nombres suivants :

Trois unités, quatre dixièmes cinq millièmes : \_\_\_\_\_


Deux dizaines, trois centièmes, sept millièmes : \_\_\_\_\_

zéro unité, six dixièmes, neuf centièmes : \_\_\_\_\_



### 3 Dans les nombres suivants, barre les zéros inutiles :

020,710 - 10,200 - 41,06 - 0,010 - 31,800 - 100,020



### 4 Quel est le prix en euros ?

a.



\_\_\_\_\_

b.



\_\_\_\_\_

c.



\_\_\_\_\_

