


1 Dans les nombres suivants, colorie la partie entière en bleu et la partie décimale en rouge :

21,56 - 106,078 - 2,09 - 18 760,1 - 0,23




2 Ecris en chiffres les nombres suivants :


Quarante trois unités et quatre dixièmes : \_\_\_\_\_

Deux dizaines, trois centièmes, sept millièmes : \_\_\_\_\_

zéro unité, six dixièmes, neuf centièmes : \_\_\_\_\_



3 Quel est le prix en euros ?



4 Entoure la bonne réponse :

a. Mon chiffre des centièmes est 6 :

39,60

69,070

30,06

36,69

b. Mon chiffre des millièmes est 0 :

7,908

10 981,981

1,06

80,851

