


1 A quelle fraction correspond chaque lettre ?

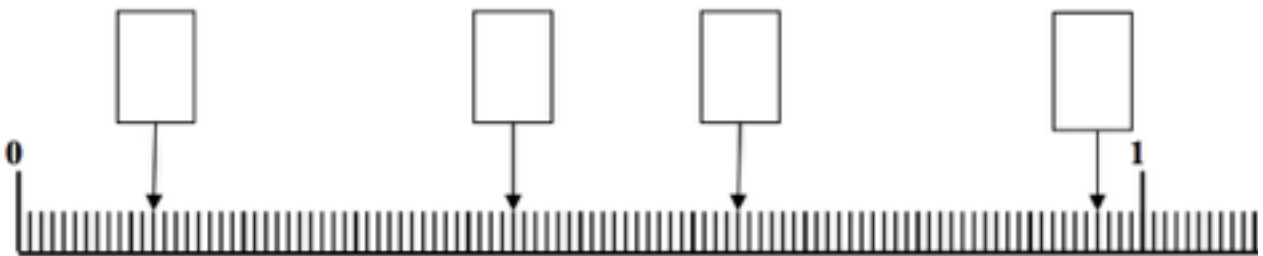


A : _____ B : _____ C : _____ D : _____ E : _____

F : _____ G : _____ H : _____ I : _____




2 Trouve la fraction qui correspond à chaque flèche :



Puis place les fractions :

20 centièmes - 5 dixièmes - 100 centièmes - 8 dixièmes



5
12