

1

Place ces fractions sur la ligne graduée

a.  $\frac{38}{5}$

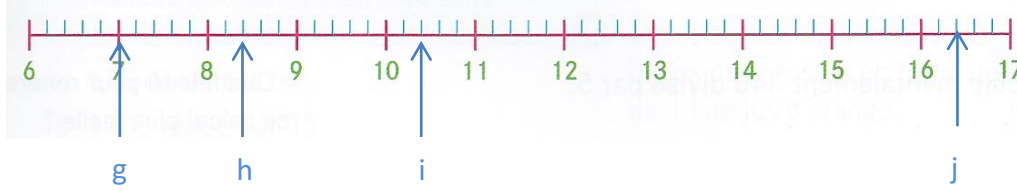
b.  $\frac{53}{5}$

c.  $\frac{69}{5}$

d.  $\frac{75}{5}$

e.  $\frac{62}{10}$

f.  $\frac{158}{10}$




g: \_\_\_\_\_

h: \_\_\_\_\_

i: \_\_\_\_\_

j: \_\_\_\_\_



2

Complète avec les signes <, =, >

$\frac{50}{100}$


..... 1

$\frac{60}{4}$

..... 1

$\frac{20}{20}$

..... 1



3

Range les fractions par ordre décroissant :

$\frac{11}{10}$

$\frac{1}{5}$

$\frac{1}{100}$

$\frac{1}{10}$

$\frac{1}{4}$

$\frac{1}{2}$

$\frac{6}{100}$

4

Compare ces fractions :

$\frac{3}{4}$

.....

$\frac{1}{2}$

$\frac{1}{2}$

.....

$\frac{4}{8}$

$\frac{1}{8}$

.....

$\frac{1}{2}$

$\frac{6}{8}$

.....

$\frac{6}{3}$

$\frac{2}{8}$

.....

$\frac{1}{4}$

$\frac{7}{8}$

.....

$\frac{3}{4}$

