
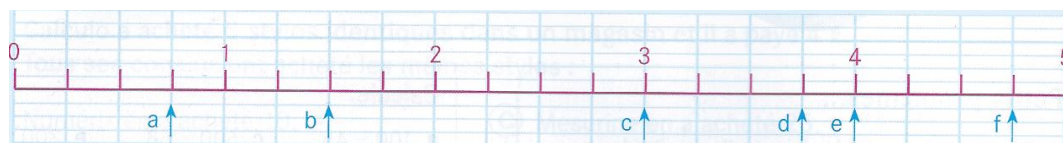


1

Trouve les fractions correspondantes aux repères indiqués par une flèche



a : \_\_\_\_\_

b : \_\_\_\_\_

c : \_\_\_\_\_

d : \_\_\_\_\_

e : \_\_\_\_\_

f : \_\_\_\_\_

2

Colorie les fractions :

$\frac{3}{4}$

$\frac{8}{4}$

$\frac{2}{2}$


$\frac{2}{3}$

$\frac{5}{2}$

$\frac{1}{4}$

$\frac{5}{5}$

en bleu → plus grandes que 1  
 en rouge → égales à 1  
 en vert → plus petites que 1



3

Range par ordre croissant

$\frac{2}{10}$


$\frac{3}{10}$

$\frac{1}{10}$

1



$\frac{3}{5}$

$\frac{11}{10}$



4

A l'aide de ces schémas, compare ces fractions :



$\frac{3}{4}$

.....

$\frac{1}{2}$

$\frac{1}{2}$

.....

$\frac{3}{8}$

$\frac{1}{8}$

.....

$\frac{1}{2}$

$\frac{6}{8}$

.....

$\frac{3}{4}$

$\frac{2}{8}$

.....

$\frac{1}{4}$

$\frac{7}{8}$

.....

$\frac{3}{4}$

