


1

Range ces nombres dans l'ordre décroissant


986 904 - 968 904 - 986 409 - 968 490 - 968 940 - 968 094



2

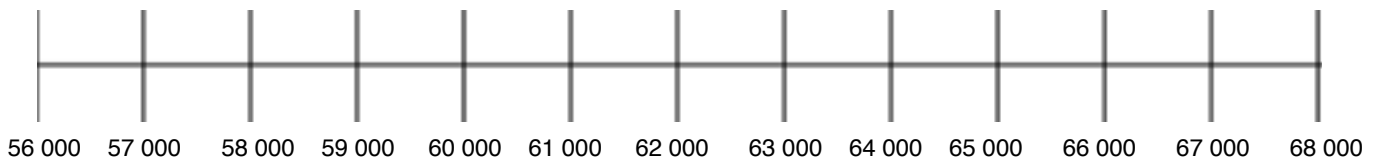
Complète le tableau

Nombre précédent terminé par 0 000	Nombre	Nombre suivant terminé par 0 000
	34 578	
	645 899	
	6 789 540	
	23 560 658	



3

Ecris les lettres à leur place sur la ligne graduée



A = 59 847

B = 61 478

C = 67 500

D = 57 890

E = 62 976

F = 60 099

G = 56 367

H = 64 001

Quel est l'encadrement choisi ? : _____

