


1 Ecris ces nombres en lettres

- 9 708 300 : _____

- 35 609 700 201 = _____

- 100 001 100 001 = _____



2 Entoure les décompositions justes de ce nombre : 21 809 876 042


2 x 10 000 000 000

7 x 100 000

9 x 1 000 000

6 x 10 000


8 x 100 000



3 Décompose les nombres suivants (décomposition additive) :

• 508 900 040 300 = _____

• 115 070 301 002 = _____



4 Compose ou décompose chaque nombre (décomposition multiplicative) :

• 1 090 600 450 = _____

• (8 x 10 000 000 000) + (5 x 10 000 000) + (2 x 100 000) + (3 x 1 000) +

(4 x 100) + (4 x 1) = _____

