


1

Dans 7 561 234

- Quel est le chiffre des centaines ? _____
- Que représente le chiffre 6 ? _____
- Combien y a-t-il d'unités de mille ? _____




Trouve le nombre qui correspond à chaque description

- Je suis un nombre avec 425 centaines.

- 425
- 4 250
- 425 000
- 42 500

- Je suis un nombre avec 180 dizaines.

- 1 800
- 180
- 18 000
- 180 000




3

Trouve le nombre

* 25 centaines, 13 milliers et 7 unités _____

* 8 dizaines de mille, 19 centaines , 13 unités de milliers, 5 unités



4

Qui suis-je ?

Mon nombre de milliers est 428. Mon chiffre des centaines est le même que celui des dizaines de milliers et mon chiffre des dizaines est le même que celui des milliers. Mon chiffre des unités est la moitié de celui des centaines de milliers. _____

