


1

Dans 56 731

- Quel est le chiffre des centaines ? _____
 - Que représente le chiffre 6 ? _____
- Combien y a-t-il d'unités de mille ? _____



2

Trouve le nombre qui correspond à chaque description

- Je suis un nombre avec 725 dizaines.

725

7 250

725 000

72 500


- Je suis un nombre avec 13 dizaines de mille.

131 809

13 180

130

1 310




3

Trouve le nombre

- * 25 centaines, 13 milliers et 7 unités _____

- * 8 dizaines de mille, 19 centaines , 13 unités de milliers, 5 unités
- _____



4

Qui suis-je ?

J'ai 111 dans la classe des unités. Mon nombre de millions est le double de celui des milliers qui est lui-même le double de celui des unités.

