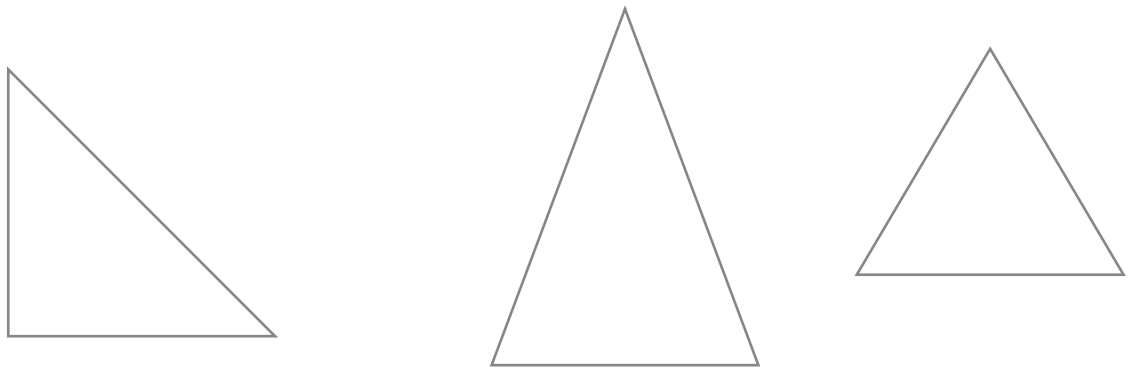




1 Colorie les triangles selon le code couleur :



isocèle - équilatéral - rectangle



2 Construis un triangle isocèle dont les deux côtés égaux mesurent 4 cm. Le troisième mesure 3 cm.



3 Trace [GH], [HI] et [IG]  
a) Mesure chaque côté



GH = .....  
GI = .....  
IH = .....

b) Que peux-tu dire de la figure obtenue ?

\_\_\_\_\_

