
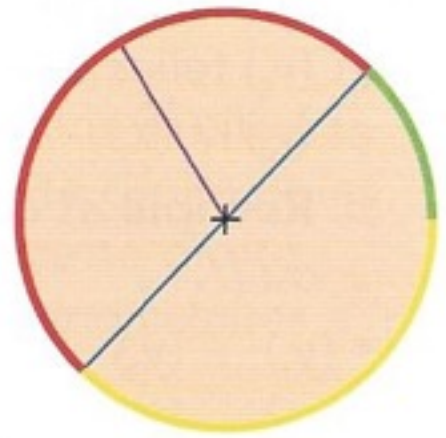



1 Complète les phrases avec les mots correspondants.

- a. Le _____ est rouge.
- b. Le _____ est bleu.
- c. Le _____ est orange.
- d. L' _____ est jaune.
- e. Le _____ est violet.
- f. La croix est le _____ du cercle.




2 Calcule et complète le tableau.

Rayon	3 cm
Diamètre	...	80 mm	240 cm	1 m



3 Trace la figure en suivant les instructions.



- a. Trace un segment [AB] de 4 carreaux.
- b. Trace un arc de cercle de centre A et de rayon 4 carreaux.
- c. Trace un arc de cercle de centre B et de rayon 4 carreaux
- d. Nomme C le point d'intersection des 2 arcs. Trace les segments [AC] et [BC]. Quelle figure obtiens-tu ?

