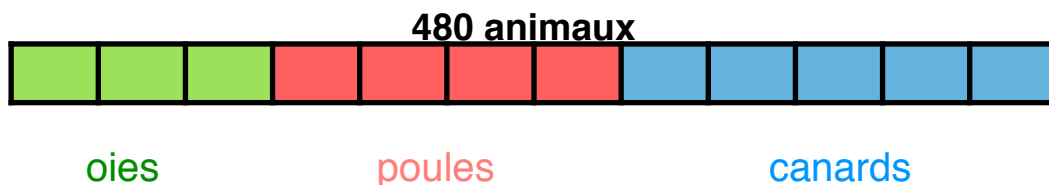



1 Complète les phrases suivantes.



_____ des animaux sont des oies. Il y en a

_____ des animaux sont des poules. Il y en a

_____ des animaux sont des canards. Il y en a




2 Calcule.

un tiers de 27 : _____ trois quarts de 240 : _____

trois huitièmes de 320 : _____ sept douzièmes de 72 : _____

sept vingt-cinquièmes de 400 : _____ deux cinquièmes de 150 : _____

deux centièmes de 500 : _____



3 Résous ce problème.



A l'école La Forêt, les trois cinquièmes des élèves sont des filles et elles sont 120.

a. Combien y a-t-il d'élèves dans cette école ? _____

b. Les trois quarts des garçons et les sept dixièmes des filles viennent à l'école en bus. Combien élèves viennent en bus à l'école ?

c. Combien d'élèves ne viennent pas en bus à l'école ?

