



## 1 Complète les phrases avec les fractions manquantes



..... des figures sont des carrés.

..... des figures sont des cercles.

..... des figures sont des triangles.




## 2 Calcule.

un sixième de 18 : \_\_\_\_\_ un demi de 18 : \_\_\_\_\_ cinq sixièmes de 18 : \_\_\_\_\_

un dixième de 150 : \_\_\_\_\_ quatre quinzièmes de 150 : \_\_\_\_\_

deux tiers de 150 : \_\_\_\_\_ deux cinquièmes de 150 : \_\_\_\_\_



## 3 Trouve l'intrus dans chaque liste

a.	$\frac{1}{2}$ de 8	$\frac{1}{3}$ de 12	$\frac{1}{4}$ de 20	$\frac{1}{10}$ de 40
b.	$\frac{1}{5}$ de 50	$\frac{1}{3}$ de 30	$\frac{1}{4}$ de 40	$\frac{1}{2}$ de 30
c.	$\frac{2}{7}$ de 42	$\frac{2}{6}$ de 36	$\frac{2}{5}$ de 60	$\frac{2}{3}$ de 18
d.	$\frac{3}{6}$ de 18	$\frac{3}{7}$ de 21	$\frac{3}{4}$ de 12	$\frac{3}{10}$ de 40

