


prénom :

1

473 : 9




835 : 6



127 : 2



509 : 4




2

Calcule.

450 : 10 = _____ 600 : 100 = _____ 5 600 : 10 = _____

1 700 : 10 = _____ 53 000 : 1 000 = _____ 789 000 : 100 = _____



3

Résous ce problème.

La directrice a commandé des cahiers qui coûtent 2 euros pièce. Sa commande s'élève à 642 euros. Combien a-t-elle commandé de cahiers en tout ?

