



1

Pose et effectue les opérations


936 302 - 126 208





1 787 359 - 243 508



527 350 - 424 091



1 509 999 - 19 111



2

Associe chaque opération avec son résultat (aide-toi de l'ordre de grandeur)

8 279 - 3 280


4 999

39 200 - 18 865

25 000

57 834 - 32 834

20 335



3

Résous ce problème

Le samedi soir, le cirque a accueilli 5 214 spectateurs. Le dimanche matin, il y a eu 1 319 visiteurs de moins que le samedi soir. Le samedi soir, il y a eu 824 visiteurs de plus que le dimanche après-midi.

Combien y a-t-il eu de spectateurs le dimanche matin ?

Combien y a-t-il eu de spectateurs le dimanche après-midi ?

