



1 Pose et effectue les opérations


36 302 - 6 208





243 508 - 17 359



127 350 - 24 091



509 999 - 19 111



2 Associe chaque opération avec son résultat (aide-toi de l'ordre de grandeur)

847 - 582


1 050

6 015 - 4 965

2 550

8 315 - 5 765

265



3 Résous ce problème

La vente des billets du samedi soir a rapporté 16 690 € au cirque, celle du dimanche après-midi 18 540 €.



Combien le cirque a-t-il gagné de plus le dimanche après-midi ?

