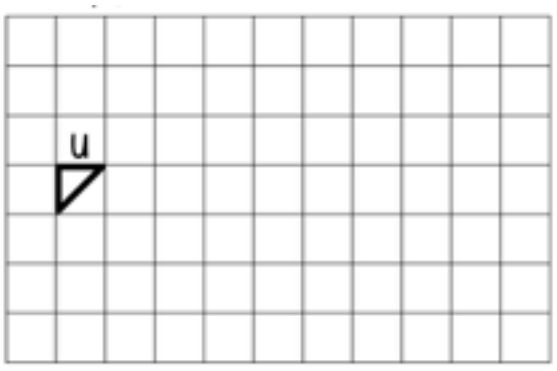
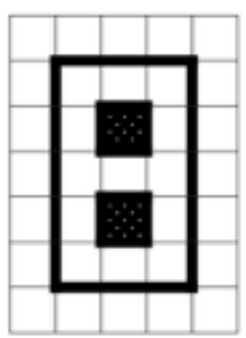


1 Un peu d'aire ...




Trace une figure dont l'aire est de 24 u

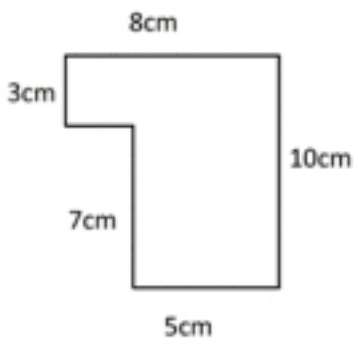


Quelle est l'aire de cette figure ?

.....



2 Calcule l'aire de cette figure :



.....
.....



3 Problèmes :

1/ Une cour de forme rectangulaire a une longueur 58 m et une largeur mesurant 36 m. Quelle est son aire en m²?

.....

2/ Une piscine rectangulaire mesure 12 m de long et a une aire de 72 m². Quelle est sa largeur ?



.....

