

### 1 Réponds aux questions suivantes :


Il est 9 h. Quelle heure était-il , il y a :

a. 40 min ? \_\_\_\_\_

b. 2h ? \_\_\_\_\_

c. un quart d'heure ? \_\_\_\_\_


d. 1h et demie ? \_\_\_\_\_



### 2 Calcule et complète le tableau :

Madame Loupy prend le TGV à 9h40 à Toulon. Elle arrive à Paris à 13h48.  
Combien de temps dure le trajet entre Toulon et Paris ? .....

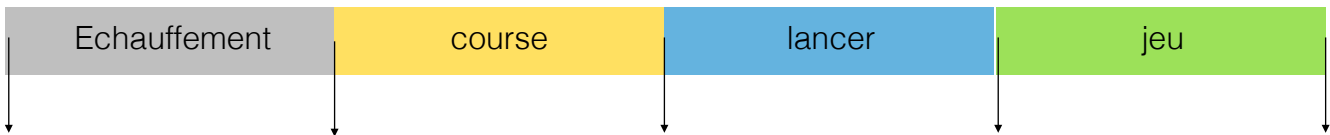
\_\_\_\_\_



### 3 Problème :



La séance d'EPS commence à 14h10. Elle dure 50 min. Les élèves font un échauffement de 5 min, puis un quart d'heure de course de vitesse. Le cours continue avec 20 min de lancer de balles. Indique l'heure qu'il est au début de chaque changement d'activité.



La séance se termine par un jeu de passes à 5. Combien de temps dure ce jeu ? .....

