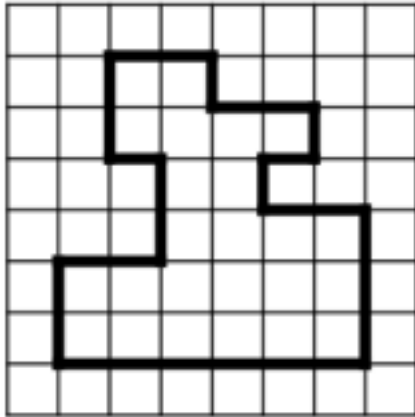



1 Calcule le périmètre de ce polygone :






2 Calcule et complète le tableau :

Côté	Périmètre
8 cm	
	36 cm
250 mm	

carré

longueur	largeur	Périmètre
3 cm	2 cm	
8 cm		26 cm
	30 m	140 m

rectangle



3 Résous ces problèmes :

a. Monsieur Dupond clôture son jardin rectangulaire de 25 m de long sur 18 m de large. Il laisse deux ouvertures : l'une de 5 m, l'autre de 2 m. Quel est le périmètre de sa clôture?

b. Un coureur s'est entraîné en faisant 3 fois le tour d'un champ carré de 80 mètre de côté. Quelle distance a-t-il parcouru ?

