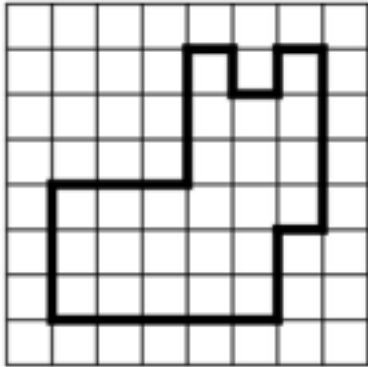



1 Calcule le périmètre de ce polygone :



\_\_\_\_\_

\_\_\_\_\_

\_\_\_\_\_




2 Calcule et complète le tableau :

Côté	Périmètre
3 cm	
	24 cm
	100 mm


*carré*

longueur	largeur	Périmètre
2 cm	1 cm	
5 cm		26 cm
	15 m	70 m


*rectangle*



3 Dessine :



un carré de périmètre 20 carreaux



un rectangle de périmètre 16 carreaux

