


1 Quelle heure est-il ? (donne toutes les façons)



\_\_\_\_\_
\_\_\_\_\_
\_\_\_\_\_



2 Relie les mesures de durée identiques

48 h

30 min

3 min

180 s

72 h


10 h

1800 s

3 jours

600 min

2 jours




3 Convertis en secondes

6 min 53 s = \_\_\_\_\_

10 min 21 s = \_\_\_\_\_

15 min 1 s = \_\_\_\_\_

2 h 20 min = \_\_\_\_\_



4 Problème

Un film commence à 20h45 et se termine à 22h30.

Il y a 2 fois 5 min de publicité pendant le film.

Combien de temps dure le film ? \_\_\_\_\_

