

1 Place les aiguilles sur les pendules.




14h10



5h35



8 heures moins le quart



2 Relie les durées identiques

2 min

7 jours

24 heures

80 s

100 ans


120 s

1 siècle

1 semaine

1 min 20 s

1 jour




3 Convertis en h et min

70 min = _____

95 min = _____

120 min = _____

200 min = _____



4 Problème

Un cycliste est parti à 9h10. Il arrive à 14h30.

Combien de temps a duré la course ?

