


1 Complète avec l'unité qui convient

- La distance entre 2 villages est de 2 .....
- Une fourmi mesure 2 .....
- Un grand basketteur mesure 2 .....



2 Complète avec l'unité ou le nombre qui convient

30 cm 3 mm = ..... mm

7 km = 700 .....

6 km 7 dam = ..... dam


20 m = 2 000 .....

29 000 m = 29 .....

70 dam = ..... dm

20 hm 3 m = ..... dm

1 hm 8 dam 5 m = ..... m



3 Complète avec les signes <, >, ou =


67 hm ..... 67 000 m

12 dam 4 m ..... 125 m

26 hm 5 dm ..... 260 060 cm

5 km 8 hm 7 m ..... 58 050 dm

25 hm 82 m ..... 258 200 cm



4 Problème

Matt habite à 750 m de l'école. Il rentre déjeuner chez lui tous les jours.

Julien habite à 1 km 860 m de l'école et mange à la cantine.

Lequel des deux parcourt le plus de distance chaque jour ? \_\_\_\_\_

