


1 Complète avec l'unité qui convient

- La hauteur d'une porte est de 2
- L'épaisseur d'un livre est de 2
- L'épaisseur d'une pièce de monnaie est de 2



2 Complète avec l'unité ou le nombre qui convient

12 cm = mm

7 km = m

67 dam = dm


200 m = 2

25 000 m = 25

900 cm = dm

20 m 3 dm = dm

6 dam 5 m = m



3 Avec l'aide du tableau, complète les mesures


km	hm	dam	m	dm	cm	mm
		5	7			
	2	0	5			
		1	8	0	9	
3	2	4				

..... dam m = m

..... hm m = m

..... m cm = cm

..... km hm dam = dam



4 Problème

Marie mesure 127 cm. Sa soeur Julie mesure 860 mm, son frère Lucas 1 m 4 dm 6 cm.

Qui est le plus grand ? _____ le plus petit ? _____

