
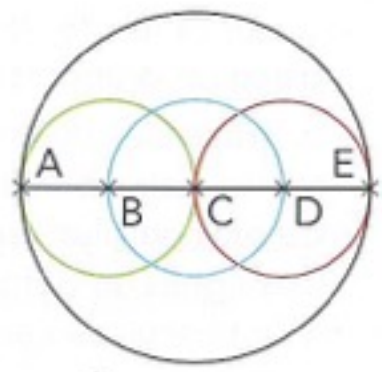



1 Observe la figure et réponds aux questions.

- a. Quel est le centre du cercle rouge ? _____
- b. Quel est le centre du cercle noir ? _____
- c. Quel est le diamètre du cercle bleu ? _____
- d. Quel est le diamètre du cercle noir ? _____
- e. De quelle couleur est le cercle dont le rayon est [BC] ? _____
- f. De quelle couleur est le cercle dont le rayon est [CE] ? _____



2 Calcule et complète le tableau.

Rayon	6 cm	45 mm
Diamètre	...	18 m	50 cm	...



3 Reproduis cette figure

